
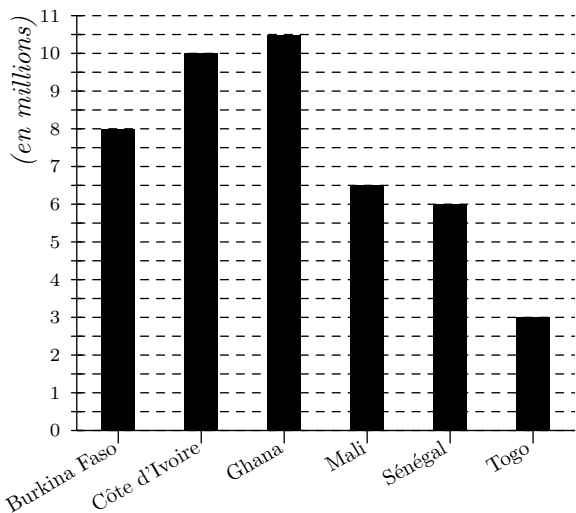


Cinquième / Autres

1. Effectifs et diagrammes

E.1  Le diagramme en bâtons ci-dessous représente le nombre de personnes âgées de moins de 18 ans dans 6 pays de l'Afrique de l'Ouest en 2008 :




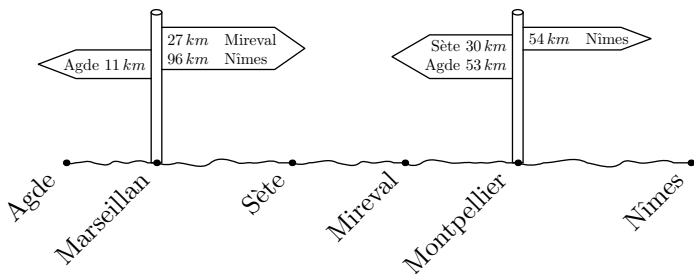
L'UNICEF est la source de ces données.

Compléter le tableau suivant :

	Burk.	C.I.	Ghana	Mali	Sén.	Togo	Total
Effectif en millions							

2. Exercices non-classés

E.2  Une route départementale relie les villes Agde, Marseillan, Sète, Mireval, Montpellier et Nîmes. Le schéma ci-dessous représente cette route et quelques informations sur les distances entre ces villes :



1 Compléter le tableau à double entrée ci-dessous permettant de connaître la distance en kilomètre séparant deux villes du parcours.

	Nîmes	Montpellier	Mireval	Sète	Marseillan
Agde					
Marseillan					
Sète					
Mireval					
Montpellier					

2 Frontignan est une ville se trouvant entre Sète et Mireval. Déterminer la distance séparant Montpellier et Frontignan.