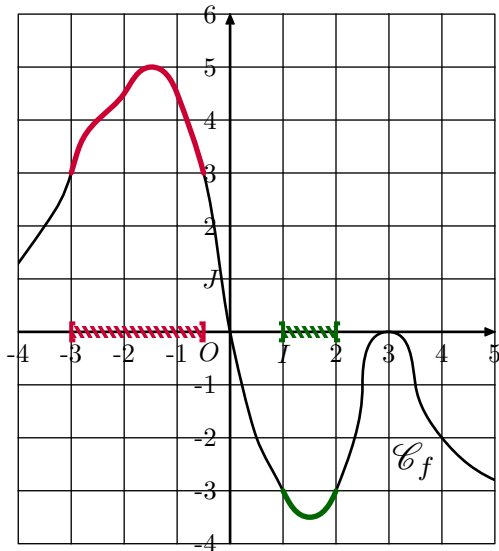
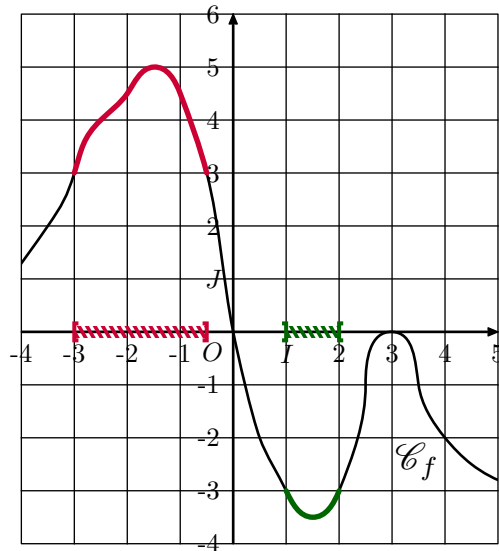


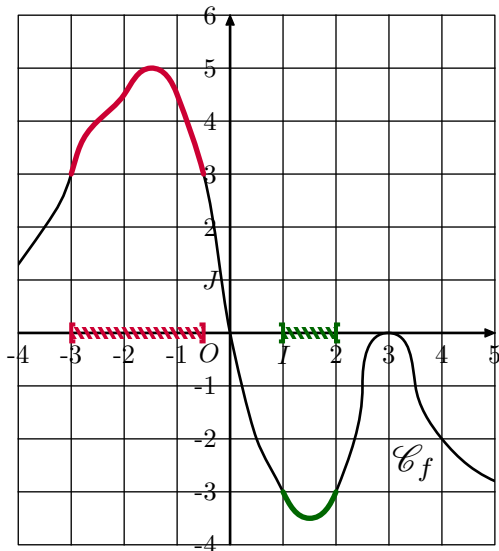
Ci-dessous sont représentées les solutions des deux équations :% $f(x) \geq 3$; $f(x) < -3$



Ci-dessous sont représentées les solutions des deux équations :% $f(x) \geq 3$; $f(x) < -3$



Ci-dessous sont représentées les solutions des deux équations :% $f(x) \geq 3$; $f(x) < -3$



Ci-dessous sont représentées les solutions des deux équations :% $f(x) \geq 3$; $f(x) < -3$

